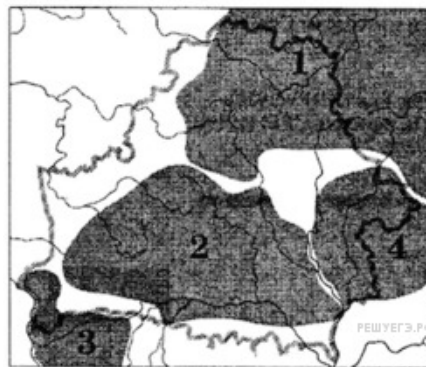
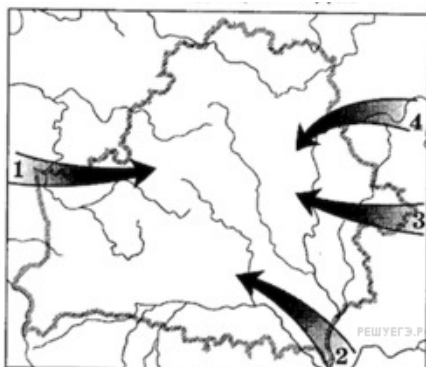


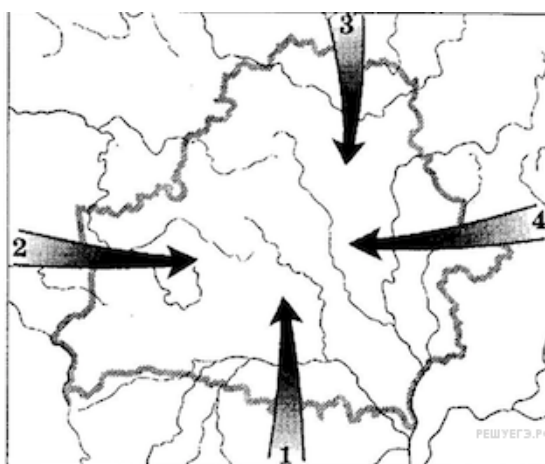
1. Запишите цифру, которой на картосхеме обозначена примерная территория расселения кривичей.



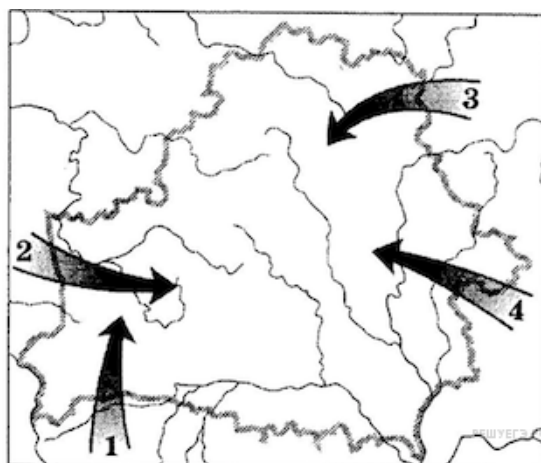
2. Запишите цифру, которой на картосхеме обозначено одно из направлений заселения древними славянами территории Беларуси.



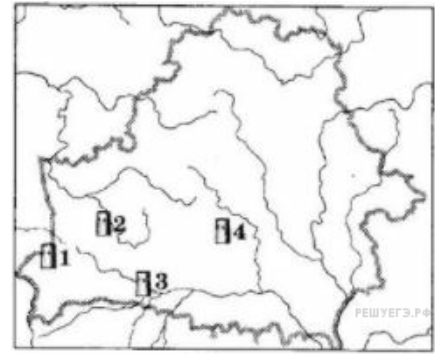
3. Запишите цифру, которой на картосхеме обозначено направление поступления на белорусские земли меди и олова в бронзовом веке.



4. Запишите цифру, которой на картосхеме обозначено одно из направлений заселения древними славянами территории Беларуси.




5. «Мураваны стоўп камен» (башня) был построен в XIII в. на месте, которое обозначено на картосхеме цифрой:




- 1) 1    2) 2    3) 3    4) 4

6. Территория княжества, которое в XII в. первым выделилось из Полоцкой земли, обозначена на картосхеме цифрой:



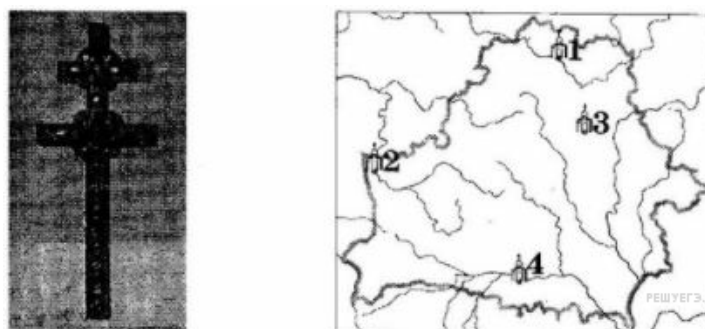
- 1) 1    2) 2    3) 3    4) 4

7. Город, где находится памятник архитектуры XII в., представленный на иллюстрации, обозначен на картосхеме цифрой:



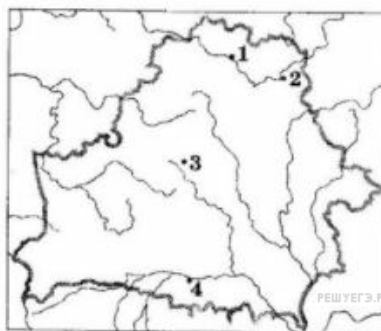
- 1) 1    2) 2    3) 3    4) 4

8. Город, в котором в XII в. находился памятник прикладного искусства, представленный на иллюстрации, обозначен на картосхеме цифрой:



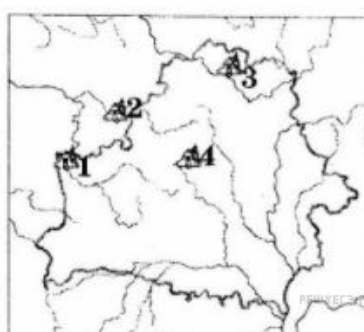
- 1) 1    2) 2    3) 3    4) 4

9. Город, где был найден памятник письменности XIII—XIV вв., представленный на иллюстрации, обозначен на картосхеме цифрой:



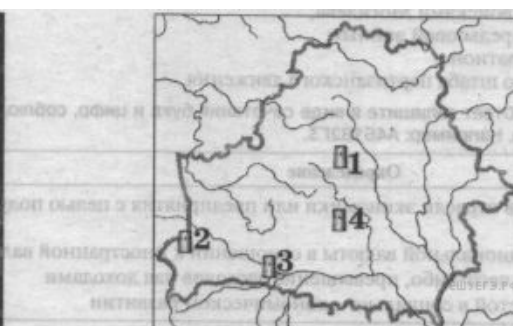
1) 1    2) 2    3) 3    4) 4

10. Город, где находится памятник архитектуры XII в., представленный на иллюстрации, обозначен на картосхеме цифрой:



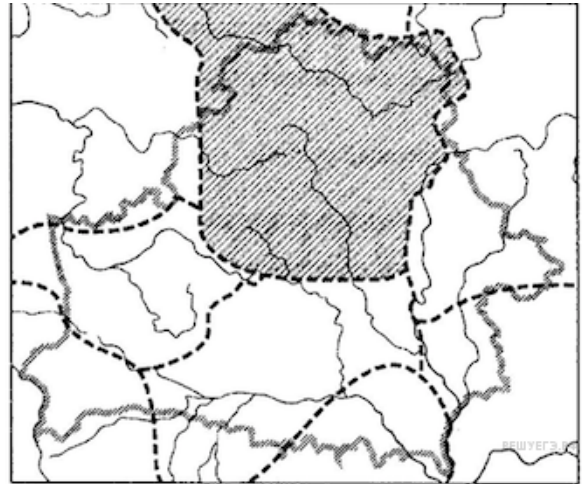
1) 1    2) 2    3) 3    4) 4

11. Место, где находится памятник архитектуры белорусских земель XIII в., представленный на иллюстрации, обозначено на картосхеме цифрой:



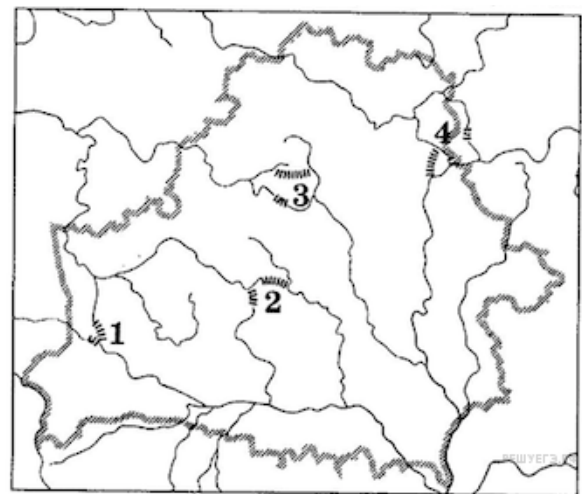
1) 1    2) 2    3) 3    4) 4

12. Первым известным из летописей князем земли, которая заштрихована на картосхеме, являлся:



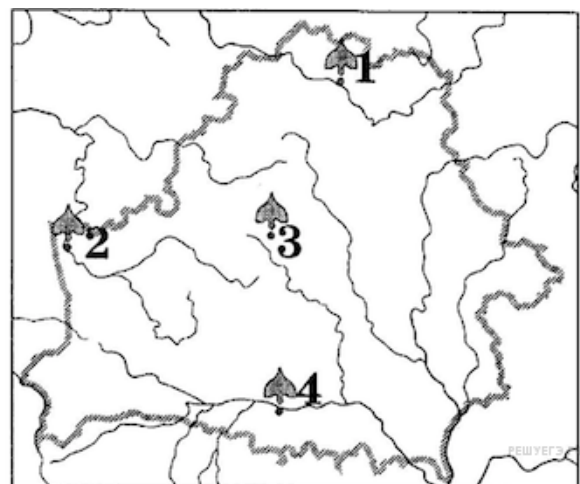
- 1) Брячислав 2) Глеб 3) Тур 4) Рогволод

13. Местонахождение волоков, которые соединяли Западную Двину с Днепром и за которые боролся с Новгородом полоцкий князь Брячислав, обозначено на картосхеме цифрой:



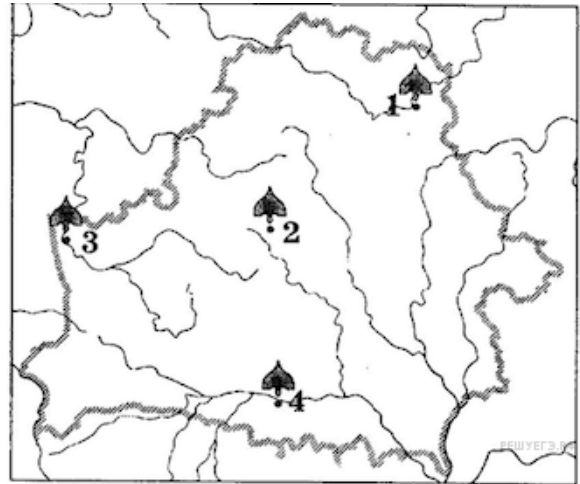
- 1) 1 2) 2 3) 3 4) 4

14. Город, который в 980 г. был разрушен и сожжен новгородским князем Владимиром Святославичем, обозначен на картосхеме цифрой:



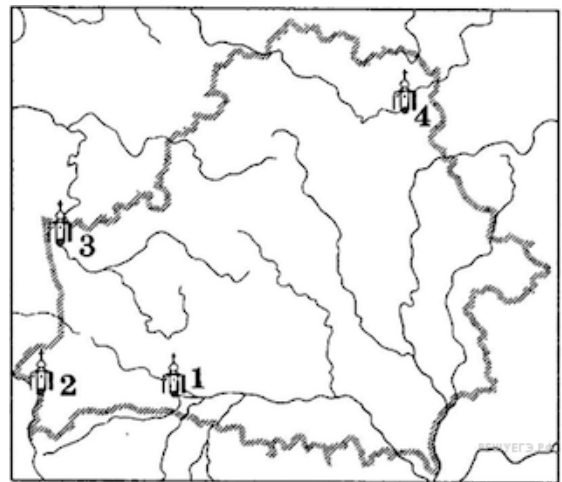
- 1) 1 2) 2 3) 3 4) 4

15. Город, князя которого в XI в. неоднократно становились великими князьями в Киеве, обозначен на картосхеме цифрой:



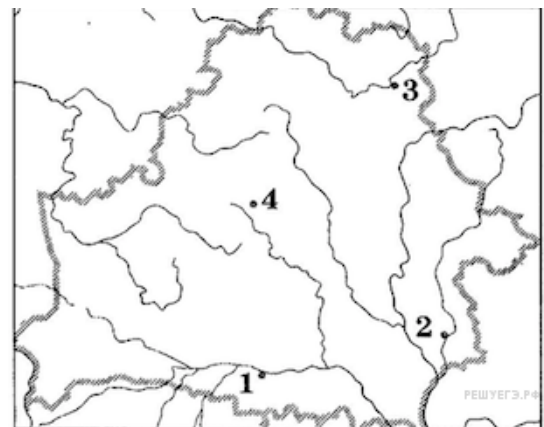
- 1) 1    2) 2    3) 3    4) 4

16. Борисоглебская (Коложская) церковь, построенная в XII в., находится в городе, который обозначен на картосхеме цифрой:



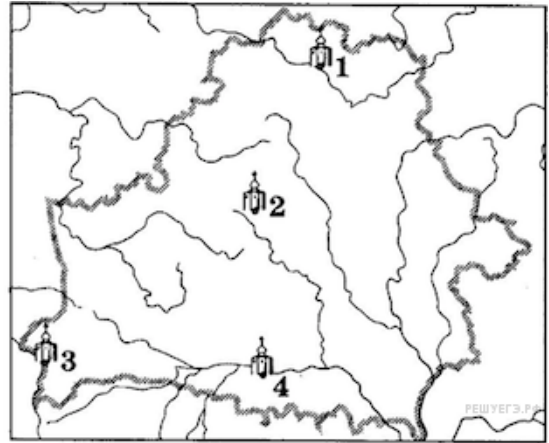
- 1) 1    2) 2    3) 3    4) 4

17. Берестяная грамота конца XIII—XIV в. была найдена во время археологических раскопок в городе, который обозначен на картосхеме цифрой:



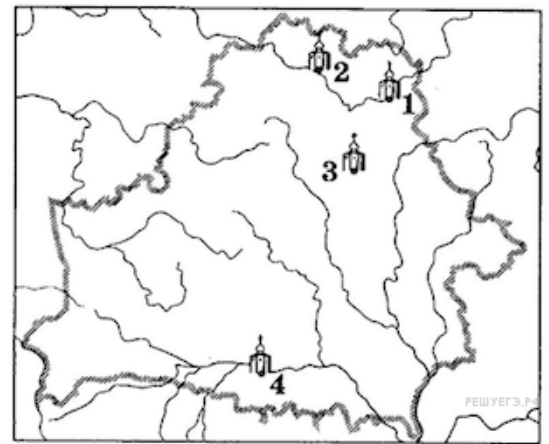
- 1) 1    2) 2    3) 3    4) 4

18. Город, который в 1005 г. стал центром православной епархии, обозначен на картосхеме цифрой:



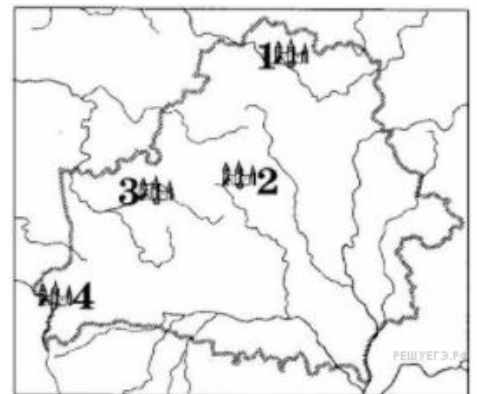
- 1) 1    2) 2    3) 3    4) 4

19. Самый древний на белорусских землях каменный христианский храм был построен в городе, который обозначен на картосхеме цифрой:



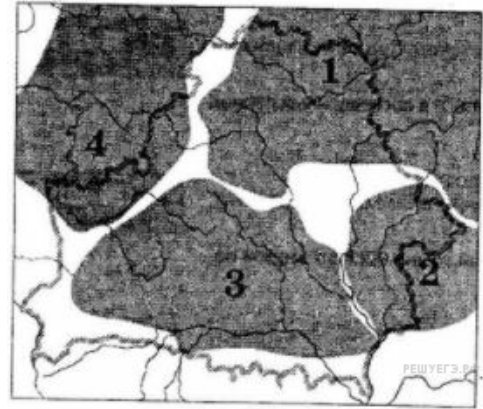
- 1) 1    2) 2    3) 3    4) 4

20. Город, в котором в 1253 г. произошла коронация Миндовга, обозначен на картосхеме цифрой:



- 1) 1    2) 2    3) 3    4) 4

21. Запишите цифру, которой на картосхеме обозначена примерная территория расселения радимичей.



22. В задании ответ запишите цифрами (порядок записи цифр не имеет значения, количество цифр в ответе в указанных заданиях может быть разным). Например: 12 или 123.

Определите три правильных утверждения относительно славянских союзов племен на белорусских землях в Раннем средневековье:

- 1) древнейшим городом дреговичей был Туров;
- 2) кривичи селились в среднем течении р. Припять;
- 3) самым крупным славянским союзом племен были кривичи;
- 4) древнейшим городом радимичей был Минск (Минск);
- 5) для каждого союза племен был характерен свой тип женских украшений.

23. На территории Беларуси берестяная грамота была найдена в:

- 1) Гродно; 2) Витебске; 3) Полоцке; 4) Турове; 5) Могилеве.